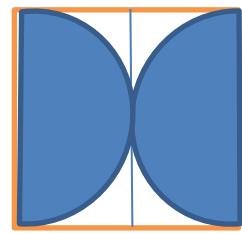


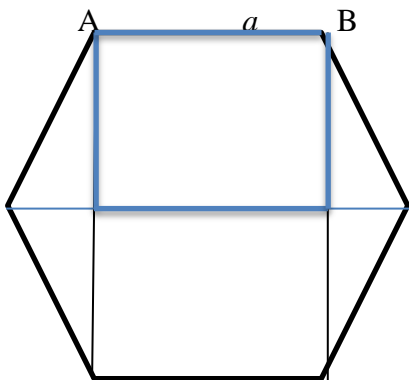


### Seria 30. Test egzaminacyjny

- Antek ma 12 samochodzików czerwonych i resztę białych. Józio ma 30 samochodów czerwonych i białych. Gdyby Józek oddał Antkowi 5 samochodów białych, to miałby tyle samochodów białych, co Antek ma czerwonych. Ile samochodów białych i ile czerwonych ma Józio?  
a) 13 czerwonych i 12 białych      b) 12 czerwonych i 17 białych      c) 13 czerwonych i 8 białych
- Wszystkie pomarańczowe kwadraty mają jednakową długość boku, wszystkie pozostałe linie są łukami okręgów o takim samym promieniu. Porównaj obszary: które są większe – niebieskie, czy białe; wewnątrz czarnego konturu, czy na zewnątrz?



- Czy w sześciokącie foremnym o boku  $a$  zaznaczony prostokąt jest kwadratem?    TAK      NIE  
Odpowiedź uzasadnij.



- Hania przejechała rowerem 12 km. Odczytaj z wykresu, jak długo Hania jechała (w minutach)

